


Addition



Autorin:
Melanie Böhm



Mathematik

Addition


Additionen im Zahlenraum 100 mit Zehnerüberschreitung sollen richtig gelöst werden.

Subtraktion

Subtraktionen im Zahlenraum 100 mit Zehnerunterschreitung sollen richtig gelöst werden.

Multiplikation

Multiplikationen im Zahlenraum 100 mit Zehnerüberschreitung sollen richtig gelöst werden.



Inklusive
Lösung


Addition

2



Lege deine linke Hand
auf das Ergebnis der Rechnung:

$$18 + 37$$



Lösung:

55


Addition

23



Stelle deinen rechten Fuß
auf das Ergebnis der Rechnung:


$$2 + 17$$



Lösung:

19

Subtraktion



Autorin:
Melanie Böhm




Subtraktion

1



Lege deinen Kopf
auf das Ergebnis der Rechnung:

$$62 - 7$$



Lösung:

55




Subtraktion

16




Lege deine linke Hand
auf das Ergebnis der Rechnung:

$$84 - 9$$



Lösung:
75

Multiplikation



Autorin:
Melanie Böhm




Multiplikation

11



Stelle deinen linken Fuß
auf das Ergebnis der Rechnung:

$$5 \cdot 4 - 3$$



Lösung:

17


Multiplikation

29



Lege deine rechte Hand
auf das Ergebnis der Rechnung:

$$7 \cdot 9 + 10$$



Lösung:

73