

DAS SCHULGEBÄUDE

Lies den Plan dieser Schule und beantworte die Fragen!

1. Wo befinden sich die Klassen 1A und 1B?

2. Welcher Raum liegt rechts neben dem Computer Raum?

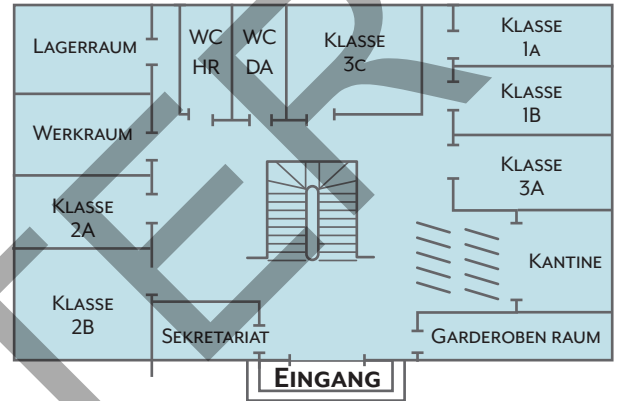
3. Zwischen welchen Räumen liegt die Klasse 3A?

4. Welche Klasse liegt gegenüber dem Lehrer Zimmer?

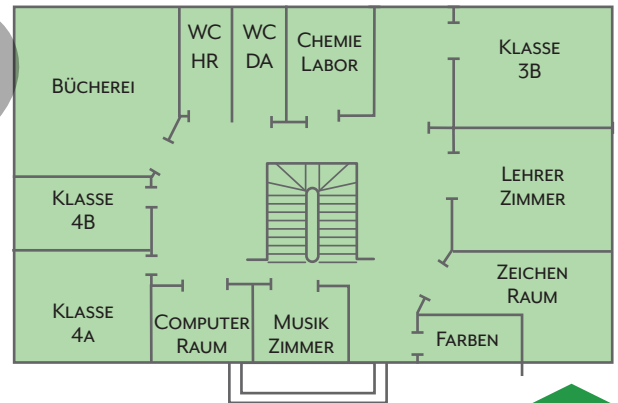
5. Welche Räume befindet sich direkt neben der Klasse 4B?

6. Wo befindet sich der Werkraum?

ERDGESCHOSS



1. STOCK



DAS SCHULGEBÄUDE

Lies den Plan dieser Schule und beantworte die Fragen!

1. Wo befinden sich die Klassen 1A und 1B?

im Erdgeschoss, nach der Klasse 3A

2. Welcher Raum liegt rechts neben dem Computer Raum?

das Musik Zimmer

3. Zwischen welchen Räumen liegt die Klasse 3A?

zwischen der Kantine und der Klasse 1B

4. Welche Klasse liegt gegenüber dem Lehrer Zimmer?

die Klasse 4B

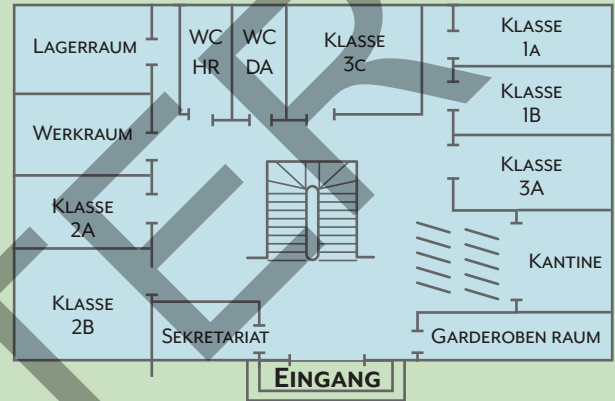
5. Welche Räume befindet sich direkt neben der Klasse 4B?

die Klasse 4A und die Bücherei

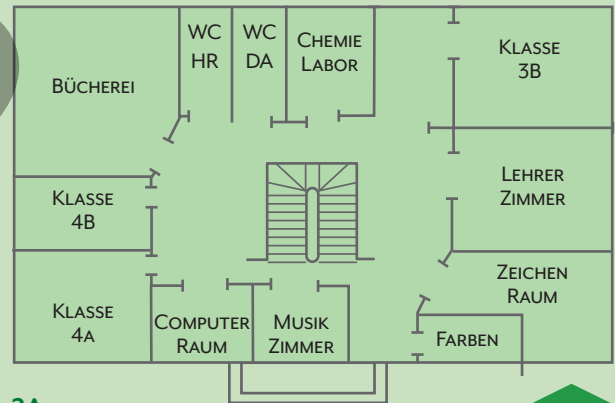
6. Wo befindet sich der Werkraum?

Im Erdgeschoss, zwischen dem Lagerraum und der Klasse 2A

ERDGESCHOSS



1. STOCK



PUZZLETEILE

Welche Teile ergänzen A, B, und C zu einem Quadrat? Schreibe den Buchstaben in das richtige Kästchen!

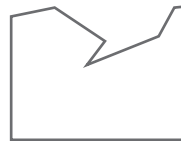
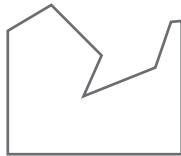
A



B



C



PUZZLETEILE

Welche Teile ergänzen A, B, und C zu einem Quadrat? Schreibe den Buchstaben in das richtige Kästchen!

A



B



C



EURO UND CENT

Die Kinder zahlen an der Kasse. Berechne jeweils das Restgeld!

	Zu zahlender Betrag	Sie bezahlen mit	Restgeld
 Emma	23,70 €		
 Florian	37,50 €		
 Lea	18,65 €		
 Mia	34,85 €		

EURO UND CENT

Die Kinder zahlen an der Kasse. Berechne jeweils das Restgeld!

	Zu zahlender Betrag	Sie bezahlen mit	Restgeld
 Emma	23,70 €		6,30 €
 Florian	37,50 €		2,50 €
 Lea	18,65 €		0,35 €
 Mia	34,85 €		15,25 €

WER BRAUCHT WIE LANGE? Schreibe auf wie viele Minuten die Kinder zur Schule brauchen!

Ich fahre mit dem Bus um 6:55 los und bin um 7:36 in der Schule.



Emma

Ich fahre um 6:35 los und bin um 7:30 in der Schule.



Florian



Raphael

Ich fahre um 6:15 von zu Hause weg und bin um 7:08 in der Schule.

Ich fahre um 6:20 weg und bin um 7:09 in der Schule.



Manuel

Ich fahre mit dem gleichen Bus wie Emma. Wir kommen zusammen an, aber ich steige schon um 6:46 in den Bus ein.



Stefanie

Ich gehe zu Fuß um 7:25 los und bin um 7:38 in der Schule.



Petra

Emma	Florian	Petra	Raphael	Manuel	Stefanie

WER BRAUCHT WIE LANGE? Schreibe auf wie viele Minuten die Kinder zur Schule brauchen!

Ich fahre mit dem Bus um 6:55 los und bin um 7:36 in der Schule.



Emma

Ich fahre um 6:35 los und bin um 7:30 in der Schule.



Florian



Raphael

Ich fahre um 6:15 von zu Hause weg und bin um 7:08 in der Schule.

Ich fahre um 6:20 weg und bin um 7:09 in der Schule.



Manuel

Ich fahre mit dem gleichen Bus wie Emma. Wir kommen zusammen an, aber ich steige schon um 6:46 in den Bus ein.



Stefanie

Ich gehe zu Fuß um 7:25 los und bin um 7:38 in der Schule.



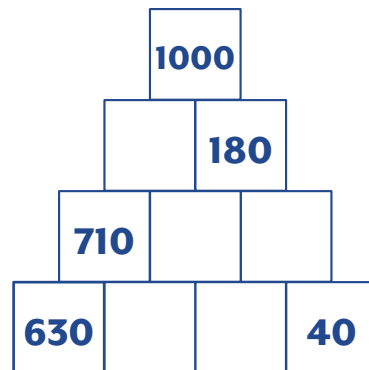
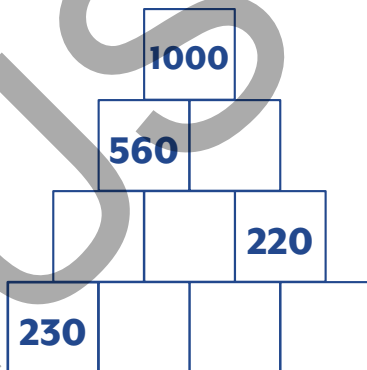
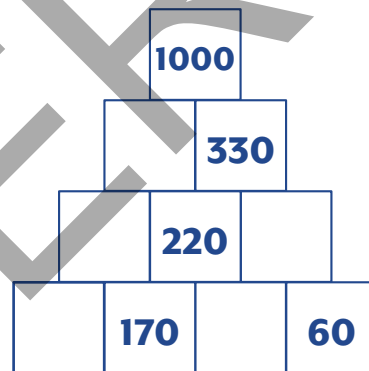
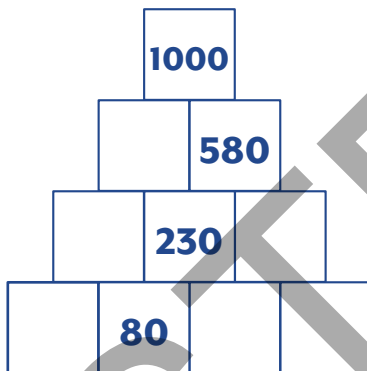
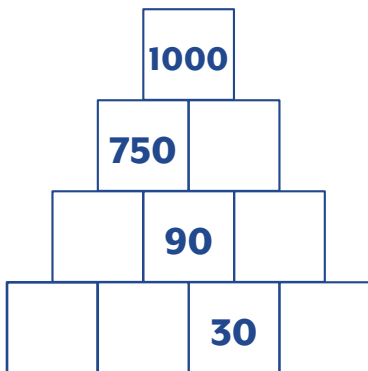
Petra

Emma	Florian	Petra	Raphael	Manuel	Stefanie
41 min	55 min	13 min	53 min	49 min	50 min



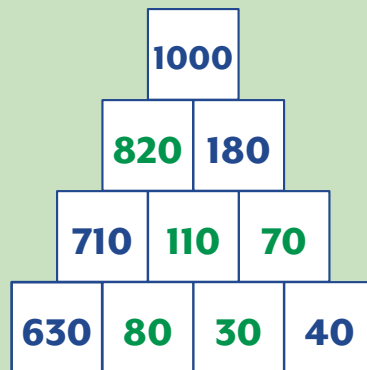
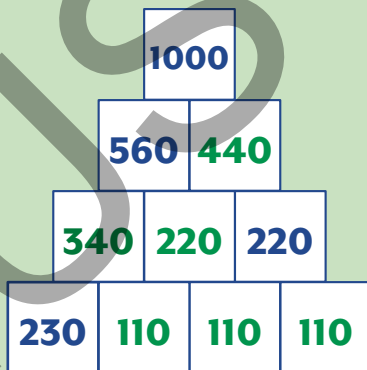
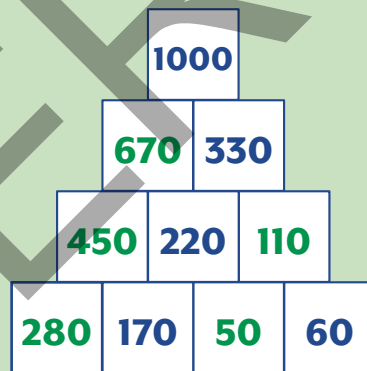
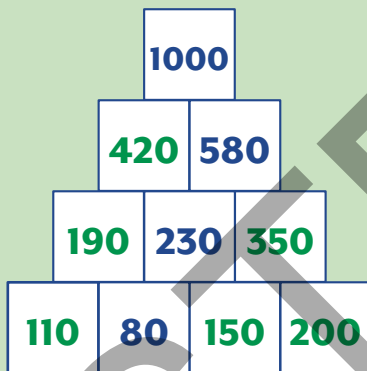
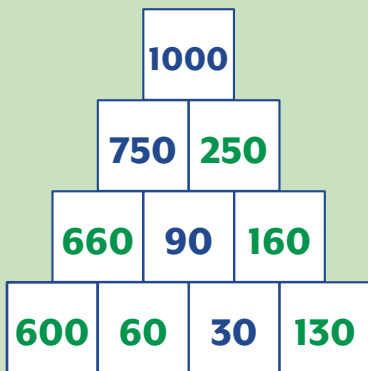
ZAHLENTÜRME 3

Florian, Petra und Manuel bauen Rechentürme! Rechne von oben nach unten!



ZAHLENTÜRME 3

Florian, Petra und Manuel bauen Rechentürme! Rechne von oben nach unten!



SCHRIFTLICH ADDIEREN UND SUBTRAHIEREN MIT ÜBERSCHREITUNGEN

Ergänze die Rechnungen mit den fehlenden Zahlen! Achte auf den Übertrag!

$$\begin{array}{r} \square 24 \\ + 23\square \\ \hline 481 \end{array}$$

$$\begin{array}{r} 24\square \\ + \square 25 \\ \hline 7\square 6 \end{array}$$

$$\begin{array}{r} 5\square 2 \\ + 14\square \\ \hline 807 \end{array}$$

$$\begin{array}{r} 125 \\ + \square 3\square \\ \hline 682 \end{array}$$

$$\begin{array}{r} \square 44 \\ + 1\square 4 \\ \hline 664 \end{array}$$

$$\begin{array}{r} 6\square 5 \\ - 31\square \\ \hline \square\square 96 \end{array}$$

$$\begin{array}{r} \square 19 \\ - 24\square \\ \hline 4\square 5 \end{array}$$

$$\begin{array}{r} 84\square \\ - \square 78 \\ \hline 36\square \end{array}$$

$$\begin{array}{r} \square 41 \\ - 22\square \\ \hline 4\square 3 \end{array}$$

$$\begin{array}{r} 3\square 3 \\ - 16\square \\ \hline \square\square 44 \end{array}$$

$$\begin{array}{r} 2\square 1 \\ + 138 \\ + \square 2\square \\ \hline 599 \end{array}$$

$$\begin{array}{r} 3\square 7 \\ + 22\square \\ + \square 34 \\ \hline 736 \end{array}$$

$$\begin{array}{r} \square\square 5 \\ + 268 \\ + 13\square \\ \hline 529 \end{array}$$

$$\begin{array}{r} \square 26 \\ + 1\square 4 \\ + 22\square \\ \hline 756 \end{array}$$



SCHRIFTLICH ADDIEREN UND SUBTRAHIEREN MIT ÜBERSCHREITUNGEN

Ergänze die Rechnungen mit den fehlenden Zahlen! Achte auf den Übertrag!

$$\begin{array}{r} \boxed{1} 2 4 \\ 2 3 \boxed{5} \\ + 1 \boxed{2} 2 \\ \hline 4 8 1 \end{array}$$

$$\begin{array}{r} 2 4 \boxed{4} \\ \boxed{2} 2 5 \\ + 3 2 7 \\ \hline 7 \boxed{9} 6 \end{array}$$

$$\begin{array}{r} 5 \boxed{5} 2 \\ 1 4 \boxed{2} \\ + \boxed{1} 1 3 \\ \hline 8 0 7 \end{array}$$

$$\begin{array}{r} 1 2 5 \\ 2 \boxed{2} 5 \\ + \boxed{3} \boxed{3} \boxed{2} \\ \hline 6 8 2 \end{array}$$

$$\begin{array}{r} \boxed{3} 4 4 \\ 1 \boxed{5} 4 \\ + 1 6 \boxed{6} \\ \hline 6 6 4 \end{array}$$

$$\begin{array}{r} 6 \boxed{1} 5 \\ - 3 1 \boxed{9} \\ \hline \boxed{2} 9 6 \end{array}$$

$$\begin{array}{r} \boxed{7} 1 9 \\ - 2 4 \boxed{4} \\ \hline 4 \boxed{7} 5 \end{array}$$

$$\begin{array}{r} 8 4 \boxed{6} \\ - \boxed{4} 7 8 \\ \hline 3 6 \boxed{8} \end{array}$$

$$\begin{array}{r} \boxed{6} 4 1 \\ - 2 2 \boxed{8} \\ \hline 4 1 3 \end{array}$$

$$\begin{array}{r} 3 \boxed{1} 3 \\ - 1 6 \boxed{9} \\ \hline \boxed{1} 4 4 \end{array}$$

$$\begin{array}{r} 2 \boxed{4} 1 \\ 1 3 8 \\ + \boxed{2} \boxed{2} \boxed{0} \\ \hline 5 9 9 \end{array}$$

$$\begin{array}{r} 3 \boxed{7} 7 \\ 2 2 \boxed{5} \\ + \boxed{1} 3 4 \\ \hline 7 3 6 \end{array}$$







$$\begin{array}{r} \boxed{1} \boxed{2} 5 \\ 2 6 8 \\ + 1 3 \boxed{6} \\ \hline 5 2 9 \end{array}$$







$$\begin{array}{r} \boxed{4} 2 6 \\ 1 \boxed{0} 4 \\ + 2 2 \boxed{6} \\ \hline 7 5 6 \end{array}$$




RÄTSEL


Welche Zahlen verstecken sich hinter den Symbolen?


•		9	
7	56	63	21
9		81	27
6	48	54	
	32		12


+	28		47
45		79	92
31	59	65	
	50		69
42	70	76	


•	10		
7	70	84	140
	90	81	
6			120
4		36	


 = _____


 = _____


 = _____


 = _____


 = _____


 = _____


 = _____


 = _____


 = _____


 = _____


 = _____


 = _____


 = _____


 = _____


 = _____

 = _____

 = _____

 = _____

 = _____

 = _____




RÄTSEL


Welche Zahlen verstecken sich hinter den Symbolen?

•		9	
7	56	63	21
9		81	27
6	48	54	
	32		12


+	28		47
45		79	92
31	59	65	
	50		69
42	70	76	


•	10		
7	70	84	140
	90	81	
6			120
4		36	


 = 8


 = 72

 = 34

 = 73


 = 12


 = 20


 = 3

 = 18

 = 78

 = 22


 = 9


 = 180

 = 4


 = 36

 = 56

 = 89

 = 60

 = 54

 = 40

 = 80

GRÖßER, KLEINER ODER GLEICH?

Setze die richtigen Zeichen ein!

Du kannst die Lösungen neben die Rechnungen schreiben!

< kleiner > größer = gleich



700	$35 \cdot 20$	>	$354 + 326$	680
	$232 + 462$		$347 \cdot 2$	
	$120 \cdot 30$		$945 - 576$	
	$856 - 243$		$124 + 466$	
	$810 : 9$		$25 \cdot 3$	
	$421 + 531$		$321 \cdot 3$	
	$94 \cdot 10$		$150 + 565 + 225$	
	$560 : 7$		$960 : 20$	



	$425 + 408$		$261 \cdot 3$	
	$202 \cdot 4$		$372 + 438$	
	$720 : 8$		$945 : 7$	
	$986 - 436$		$275 \cdot 2$	
	$336 + 663$		$386 + 601$	
	$124 \cdot 3$		$640 - 266$	
	$906 : 3$		$101 \cdot 3$	
	$567 - 234$		$969 : 3$	

GRÖßER, KLEINER ODER GLEICH?

Setze die richtigen Zeichen ein!

Du kannst die Lösungen neben die Rechnungen schreiben!

< kleiner > größer = gleich



700	$35 \cdot 20$	>	$354 + 326$	680
694	$232 + 462$	=	$347 \cdot 2$	694
360	$120 \cdot 30$	<	$945 - 576$	369
613	$856 - 243$	>	$124 + 466$	590
90	$810 : 9$	>	$25 \cdot 3$	75
952	$421 + 531$	<	$321 \cdot 3$	963
940	$94 \cdot 10$	=	$150 + 565 + 225$	940
80	$560 : 7$	>	$960 : 20$	48



833	$425 + 408$	>	$261 \cdot 3$	783
808	$202 \cdot 4$	<	$372 + 438$	810
90	$720 : 8$	<	$945 : 7$	135
550	$986 - 436$	=	$275 \cdot 2$	550
999	$336 + 663$	>	$386 + 601$	987
372	$124 \cdot 3$	<	$640 - 266$	374
302	$906 : 3$	<	$101 \cdot 3$	303
333	$567 - 234$	>	$969 : 3$	323