




FORMEN PUZZLE

Oje, der verspielte Waldi hat die Formen zerbrochen und ganz durcheinander gebracht.
Kannst du die 2 passenden Teile finden? Verbinde!



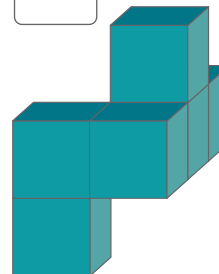
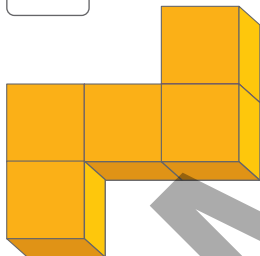

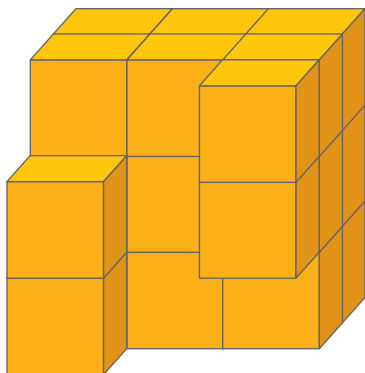
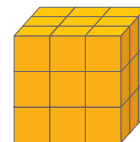
FORMEN PUZZLE

Oje, der verspielte Waldi hat die Formen zerbrochen ganz durcheinander gebracht.
Kannst du die 2 passenden Teile finden? Verbinde!



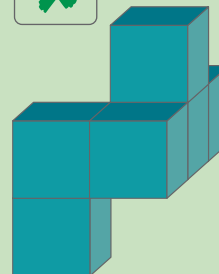


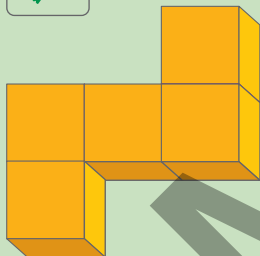



WÜRFEL-TETRIS

Stephan möchte den Würfel fertig bauen. Er hat es fast geschafft, ein Teil fehlt ihm noch, aber welcher? Kreuze an, welcher Teil den großen Würfel fertig stellt!



WÜRFEL-TETRIS

Stephan möchte den Würfel fertig bauen. Er hat es fast geschafft, ein Teil fehlt ihm noch, aber welcher? Kreuze an, welcher Teil den großen Würfel fertig stellt!


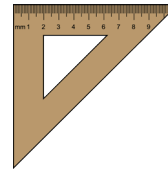
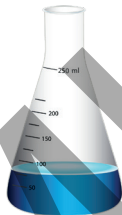
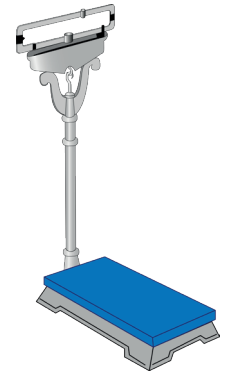
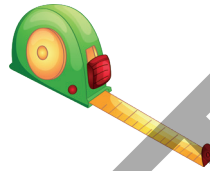


MESSGERÄTE - WOMIT MESSE ICH WAS?

Markiere alle Messgeräte mit einem *, mit denen man das GEWICHT misst.

Markiere alle Messgeräte mit einem ▲, mit denen man LÄNGEN misst.

Markiere alle Messgeräte mit einem ●, mit denen man die ZEIT misst.

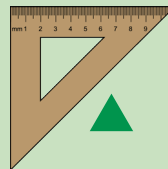
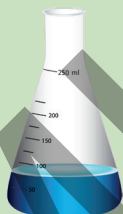

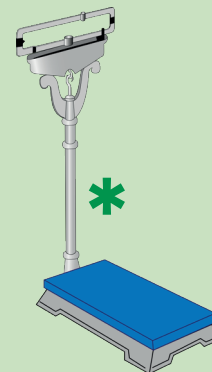
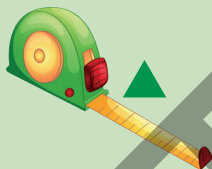


MESSGERÄTE - WOMIT MESSE ICH WAS?

Markiere alle Messgeräte mit einem *, mit denen man das GEWICHT misst.



Markiere alle Messgeräte mit einem ▲, mit denen man LÄNGEN misst.

Markiere alle Messgeräte mit einem ●, mit denen man die ZEIT misst.









GELDBETRÄGE VERGLEICHEN

Kreuze jeweils den höheren Betrag an!



GELDBETRÄGE VERGLEICHEN

Kreuze jeweils den höheren Betrag an!



UNGERADE ZAHLEN

Kreise alle ungeraden Zahlen grün ein!



5	4	9	2	1	8	3	6	9	7	4	6
9	1	8	3	2	4	5	6	9	8	2	6
1	8	6	4	5	7	2	9	3	4	9	7
4	6	3	7	2	9	5	1	8	3	6	4
2	7	8	6	5	1	4	3	9	8	1	6
3	9	1	4	6	5	8	7	9	2	7	5

UNGERADE ZAHLEN

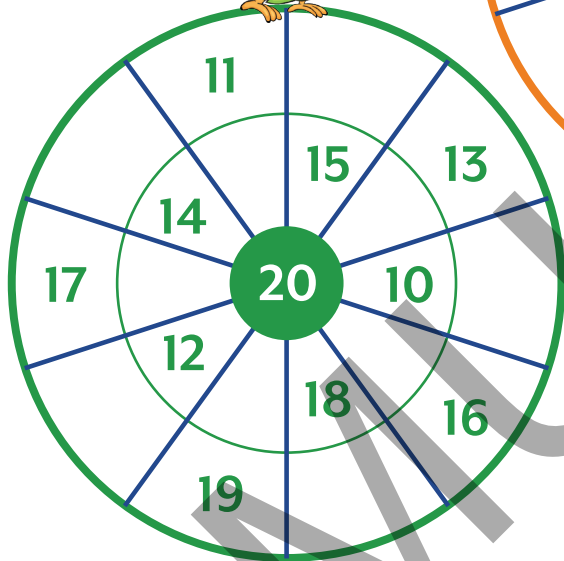
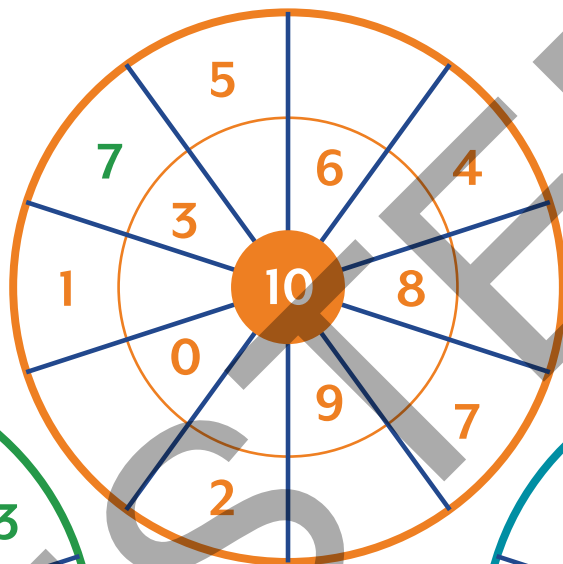
Kreise alle ungeraden Zahlen grün ein!



5	4	9	2	1	8	3	6	9	7	4	6
9	1	8	3	2	4	5	6	9	8	2	6
1	8	6	4	5	7	2	9	3	4	9	7
4	6	3	7	2	9	5	1	8	3	6	4
2	7	8	6	5	1	4	3	9	8	1	6
3	9	1	4	6	5	8	7	9	2	7	5

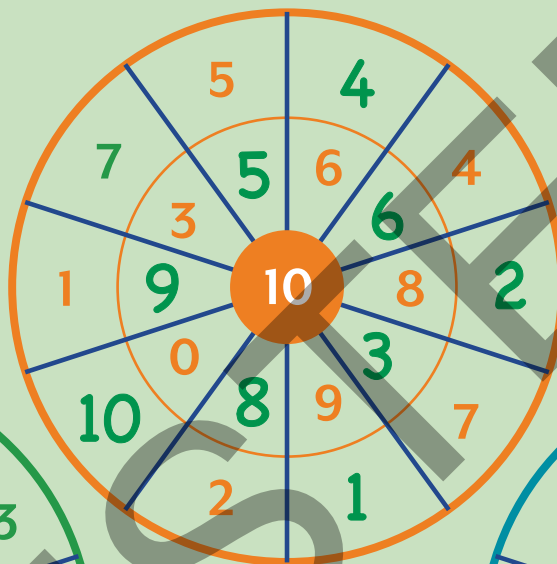
ZAHLENRAD

Wie viel fehlt auf den ganzen Zehner?



ZAHLENRAD

Wie viel fehlt auf den ganzen Zehner?



BIENENWABEN

Rechne von links nach rechts!



5 -2 3 $+3$ -4 $+5$ -5



6 -2 $+5$ -3 $+4$ -8



8 -2 $+3$ $+2$ -5 -3

10 -5 $+3$ -2 $+3$ -2



7 -2 $+5$ $+2$ -4 -4

9 -3 $+2$ -4 $+3$ -3



BIENENWABEN

Rechne von links nach rechts!



5 $+3$ 3 6 $+5$ 2 7 2 -5
 -2 -4



6 $+5$ 4 9 $+4$ 6 10 2 -8
 -2 -3



8 $+3$ 6 9 $+2$ 4 6 3 -3
 -2 -5



10 $+3$ 5 8 $+3$ 6 9 7 -2
 -5 -2



7 $+5$ 5 10 $+2$ 6 8 4 -4
 -2 -4



9 $+2$ 6 8 $+3$ 4 7 4 -3
 -3 -4



ZAHLENRÄTSEL

Wie lautet die Zahl?

Symbole	=	Zahl
♥	=	5
♥ ☆ ☆ ☆ ☆	=	
☆ ☆ ☆ ☆ ☆ ☆	=	
♥ ☆ ☆ ☆	=	
♥ ♥	=	
♥ ☆ ☆ ☆ ☆ ☆	=	
♥ ☆ ☆	=	
♥ ☆	=	
☆ ☆ ☆ ☆ ☆ ☆ ☆ ☆ ☆	=	

♥ = 5 = 5 Einer

☆ = 1 = 1 Einer



ZAHLENRÄTSEL

Wie lautet die Zahl?

Symbole	=	Zahl
♥	=	5
♥ ☆ ☆ ☆ ☆	=	9
☆ ☆ ☆ ☆ ☆ ☆	=	6
♥ ☆ ☆ ☆	=	8
♥ ♥	=	10
♥ ☆ ☆ ☆ ☆ ☆	=	10
♥ ☆ ☆	=	7
♥ ☆	=	6
☆ ☆ ☆ ☆ ☆ ☆ ☆ ☆ ☆	=	9

♥ = 5 = 5 Einer

☆ = 1 = 1 Einer

